

الامتحان يتكون من أربعة أسئلة جميعها إجبارية.

السؤال الأول (الموضوعي) يتكون من (أ - ب - ج) (٥ نقطة × درجة واحدة = ٥ درجة)

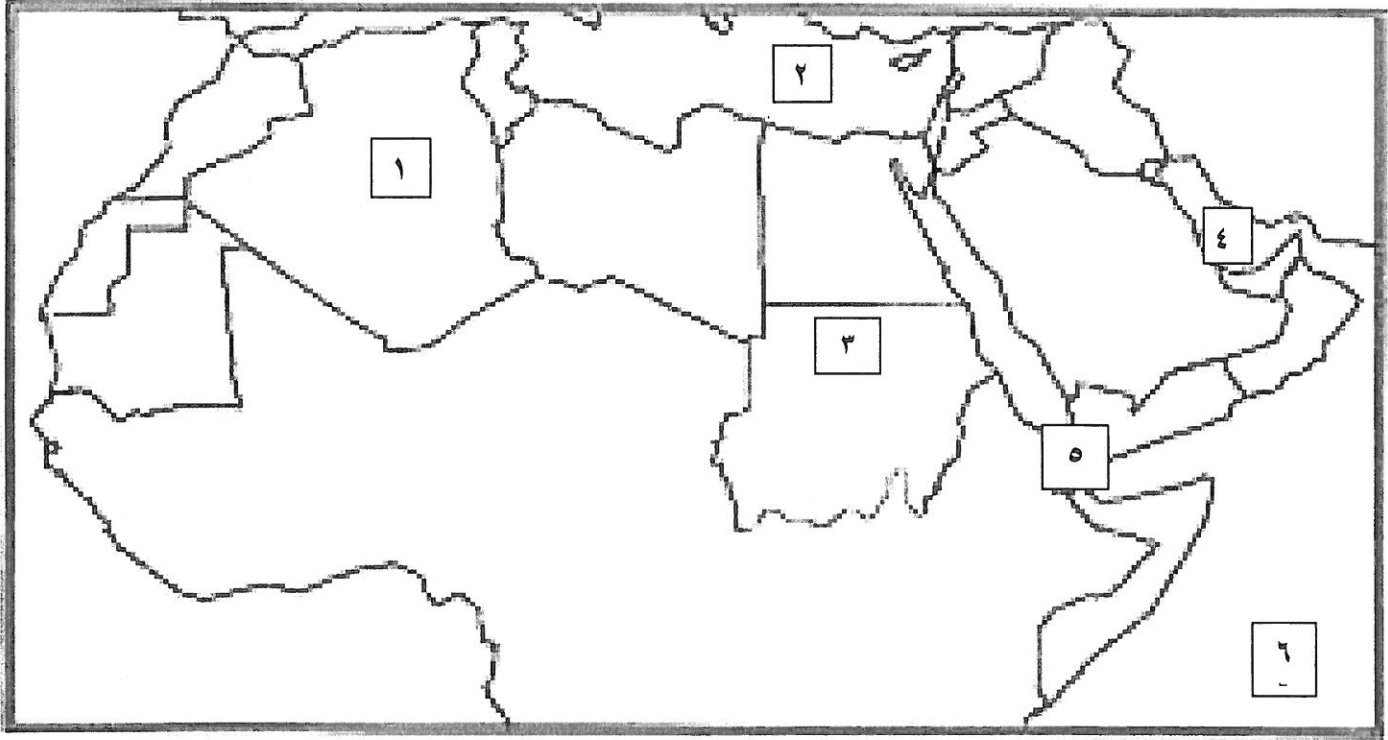
(أ) أكمل العبارات التالية بما يناسبها مما درست :

- ١- شرائع قديمة ظهرت في بلاد الرافدين من أهمها شريعة...حمورابي.... ص ٨٤
- ٢- أرض مرتفعة سطحها مستوي وتمتد على مساحة كبيرة تسمى...الهضبة.... ص ٤٠
- ٣- أشهر السدود الزراعية التي قام ببنائها سكان بلاد اليمن سُدُّ يسمى ... مأرب... ص ٨٦
- ٤- نهر النيل يجري في دولتان عربيتان هما السودان و.....مصر..... ص ٥٨
- ٥- عرفت الكتابة عند المصريين القدماء باسم الكتابة.....الهيروغليفية.... ص ٧٧

(ب) ضع خطأ تحت الخيار الصحيح من بين الخيارات التي تلي كل عبارة:

- ١- اسم (أوال) أطلق قديماً قبل الفتح الإسلامي على حضارة في البحرين تسمى :
(بابل - دلمون - تدمر - ريدان) ص ٨٨
- ٢- نزل القرآن على سيدنا محمد ﷺ عام ٦١٠ في مدينة:
(مكة المكرمة - المدينة المنورة - الطائف - جدة) ص ٩٠
- ٣- الدولة العربية التي يمر بها خط الاستواء:
(الجزائر - الصومال - مصر - العراق) ص ٣٢-٤٧
- ٤- جمهورية جزر القمر الإسلامية انضمت إلى جامعة الدول العربية عام:
(١٩٩٠م - ١٩٩١م - ١٩٩٢م - ١٩٩٣م) ص ٢٣
- ٥- مضيق يصل بين الخليج العربي وخليج عمان يسمى :
(باب المندب - هرمز - السويس - جبل طارق) ص ٢٩

(ج) لاحظ خريطة الوطن العربي ثم نفذ المطلوب منك:



* الجزائر يمثلها على الخريطة الرقم (١...) ص ٢٨

* البحر الأبيض المتوسط يمثلته على الخريطة الرقم (٢...) ص ٢٣

* مضيق باب المندب يمثلته على الخريطة الرقم (٥...) ص ٢٩

* الخليج العربي يمثلته على الخريطة الرقم (٤...) ص ٢٨

* المحيط الهندي يمثلته على الخريطة الرقم (٦...) ص ٢٨

السؤال الثاني (الموضوعي) يتكون من (أ - ب - ج) (١٥ نقطة × درجة واحدة = ١٥ درجة)

(أ) أكتب بين القوسين المفاهيم والمصطلحات المناسبة لكل عبارة مما يلي :

١- (الوطن العربي) مجموعة الدول العربية التي يجمعها عدد من السمات المشتركة (الدين واللغة) وتمتد ضمن

قارتين من أكبر قارات العالم مساحة . ص ٢٢

٢- (النباتات الطبيعي) النبات الذي ينمو تلقائياً عقب سقوط المطر دون تدخل الإنسان. ص ٥١

٣- (الموقع الاستراتيجي) أي موقع ذي مكانة مهمة بين دول العالم. ص ٢٨

٤- (المياه الجوفية) المياه التي توجد في جوف الأرض (باطن الأرض) . ص ٦٠

٥- (الحضارة) كل ما يطرأ على المجتمع من تقدم وتطور ورقي في جميع نواحي الحياة الدينية والسياسية

والاقتصادية والاجتماعية والفكرية. ص ٧١

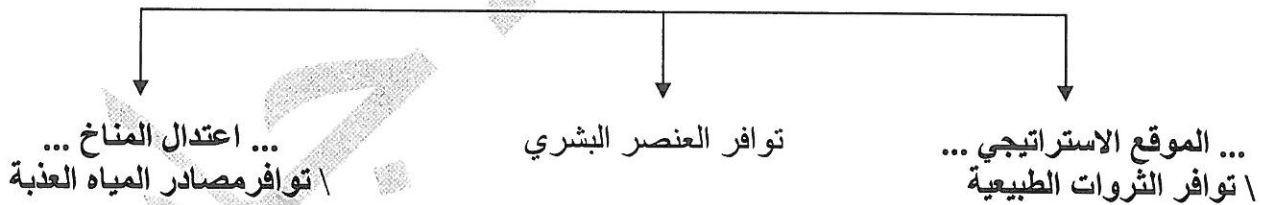
(ب) صنّف الممالك حسب الجدول الذي يليها: ص ٧٩ ، ص ٨٥

السومريون - معين - الآشوريون - حمير - الأكاديون - سبأ

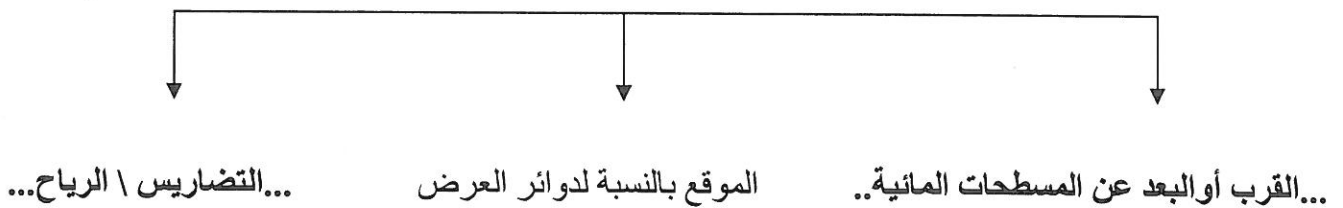
حضارة بلاد الرافدين	حضارة اليمن
- السومريون - الآشوريون - الأكاديون	- معين - سبأ - حمير

(ج) أكمل المخططات السهمية التالية بما يناسب كل منها مما درست:

١- عوامل قيام الحضارة (المقومات الأساسية). ص ٧٣



٢- العوامل المؤثرة في مناخ الوطن العربي. ص ٤٦



السؤال الثالث (المقالي) يتكون من (أ - ب) (١٥ نقطة × درجة واحدة = ١٥ درجة)
(أ) علل لكل ما يلي :

- ١- العوامل الرئيسية المؤثرة في تنوع النبات الطبيعي في الوطن العربي. ص ٥١
 - نوع التربة
 - المناخ
- ٢- كانت أوروبا تعيش في عصور الظلام في القرن العاشر الميلادي . ص ٩٢
 - بسبب سيطرة الكنيسة على عقول الناس .
- ٣- قدرة النباتات الصحراوية على مقاومة الجفاف. ص ٥٢ (يكتفى بنقطتين)
 - جذورها طويلة \ تحمي نفسها بلحاء سميك وأوراق إبرية.
 - القدرة على خزن الماء.
- ٤- ازدهار الزراعة في بلاد الرافدين. ص ٨١ (يكتفى بنقطتين)
 - بسبب خصوبة تربتها \ وفرة مياهها \ استصلاحهم للأراضي.
 - سعة سهولها \ إقامتهم للسدود \ تجفيفهم للمستنقعات.

(ب) فرق بين كل مما يلي:

الطقس ص ٤٤	١. المناخ
حالة الجو في مكان لمدة قصيرة تتراوح بين يوم أو عدة أيام من حيث درجة الحرارة والرطوبة والأمطار والرياح والضغط الجوي.	حالة الجو خلال فترة زمنية طويلة من حيث درجة الحرارة والرطوبة والأمطار.
الديانة المسيحية ص ٩٠	٢. الديانة اليهودية
الديانة التي نزلت على سيدنا عيسى بن مريم <small>عليه السلام</small> وكتابتها الإنجيل.	الديانة التي نزلت على سيدنا موسى <small>عليه السلام</small> وكتابتها التوراة.
استخدامات أشجار الغابات المعتدلة ص ٥٢	٣. استخدامات أشجار الغابات المدارية الحارة
تستخدم في : - صناعة الفلين - غذاء الإنسان (يكتفى بنقطة واحدة)	تستخدم في : - البناء - صناعة الأثاث (يكتفى بنقطة واحدة)
الموقع النسبي ص ٣٣	٤. الموقع الفلكي ص ٣١
موقع الدولة بالنسبة لليابس والماء	نقطة من الكرة الأرضية يتحدد موقعها بخطوط الطول ودوائر العرض

السؤال الرابع (المقالي) يتكون من (أ - ب) (١٥ نقطة × درجة واحدة = ١٥ درجة)

(أ) عرّف كل ما يلي :

- ١- النهر: مجرى مائي عذب ينحدر على الدوام لينتهي إلى بحر أو إلى نهر آخر أو ينتهي تدريجياً في الصحراء. ص ٥٨
- ٢- المضيق: ممر مائي ضيق يصل بين بحرين أو محيطين أو أي مساحتين كبيرتين نسبياً من الماء. ص ٢٨
- ٣- البحيرة: مسطح مائي تحيط به اليابسة من جميع الاتجاهات. ص ٦٠
- ٤- المسطحات المائية: جميع أشكال المياه على سطح الأرض مثل البحار والخلجان والمحيطات والبحيرات والأنهار. ص ٢٨
- ٥- الجبل: هو كل ما ارتفع من الأرض وله قمة لا يقل ارتفاعها عن ١٠٠٠ متر. ص ٣٨
- ٦- السهول: مساحة كبيرة من سطح الأرض تتميز باستوائها وقلة ارتفاعها. ص ٤٢
- ٧- الضغط الجوي: وزن الهواء فوق أي مكان. ص ٤٤

(ب) أجب عن الأسئلة التالية:

- ١- كيف نحافظ على ثروة المياه ونخفف من المشكلة . ص ٦٣ (يكتفى بثلاث نقاط)
 - ترشيد استخدام المياه والحد من التبذير في المنازل \ تطوير استعمال مياه الصرف الصحي المعالجة في الزراعة.
 - الحد من هدر المياه في عمليات الري، وذلك من باستخدام الوسائل الحديثة كالرش بالتنقيط والمحوري.
 - تنظيم عملية الاستفادة من المياه الجوفية ومنع تسرب الأملاح الملوثة إليها واستثمارها على الوجه الأمثل.
 - إقامة البحيرات والسدود لتجميع مياه الأمطار والسيول للاستفادة منها في فصل الجفاف.
 - توقيع اتفاقيات مع الدول المشاركة ودول المنبع لتحقيق مصالح الدول العربية المعنية.
- ٢- ما أهم الحيوانات السائدة في الوطن العربي . ص ٥٥ (يكتفى بثلاث نقاط)
 - الماعز \ الإبل \ الضب \ الأرناب البرية \ الصقور.
 - الجراد \ العقارب \ الخنافس \ الأفاعي.
 - الفئران \ الجربوع \ الحباري \ البوم.
- ٣- اذكر طرق انتقال الحضارة العربية الإسلامية إلى أوروبا. ص ٩٢ (يكتفى بنقطتين)
 - بلاد الأندلس \ الاحتلال الصليبي لبلاد الشام .
 - صقلية .